


МИНИСТЕРСТВО НАУКИ И ВЫСШЕГО ОБРАЗОВАНИЯ  
РОССИЙСКОЙ ФЕДЕРАЦИИ  
ФЕДЕРАЛЬНОЕ ГОСУДАРСТВЕННОЕ БЮДЖЕТНОЕ ОБРАЗОВАТЕЛЬНОЕ  
УЧРЕЖДЕНИЕ ВЫСШЕГО ОБРАЗОВАНИЯ  
«ЛУГАНСКИЙ ГОСУДАРСТВЕННЫЙ УНИВЕРСИТЕТ  
ИМЕНИ ВЛАДИМИРА ДАЛЯ»

Институт технологий и инженерной механики  
Кафедра «Технология машиностроения и инженерный консалтинг»

УТВЕРЖДАЮ

Директор института технологий  
и инженерной механики

 Могильная Е.П.

«25» 02 2025 г.



**ФОНД ОЦЕНОЧНЫХ СРЕДСТВ**  
**по учебной дисциплине**


**«Прикладная механика»**

22.03.02 Металлургия

Литейное производство черных и цветных металлов и сплавов

Разработчик:

старший преподаватель




Кузнецова М.Н.

ФОС рассмотрен и одобрен на заседании кафедры технологии машиностроения  
и инженерного консалтинга

от «25» 02 2025 г., протокол № 7

Заведующий кафедрой

технологии машиностроения  
и инженерного консалтинга



Ясуник С.Н.

Луганск 2025 г.

**Комплект оценочных материалов по дисциплине  
«Прикладная механика»**

**Задания закрытого типа**

**Задания закрытого типа на выбор правильного ответа**

*Выберите один правильный ответ*

1. Проекция силы на ось - это:

А) Алгебраическая величина, равная произведению силы на угол между силой и осью;

Б) Вектор, заключенный между проекциями начала и конца вектора силы на ось;

В) Алгебраическая величина, равная произведению модуля силы на косинус угла между вектором силы и положительным направлением оси;

Г) Вектор, заключенный между проекциями начала и конца вектора силы на плоскость

Правильный ответ: В

Компетенции (индикаторы): ОПК-1 (ОПК-1.4)

2. Плечом силы относительно центра называется

А) Отрезок, соединяющий центр и силу

Б) Отрезок, соединяющий центр и середину вектора силы

В) Кратчайшее расстояние от центра до линии действия силы

Г) Отрезок, соединяющий начало и конец вектора силы

Правильный ответ: В

Компетенции (индикаторы): ОПК-1 (ОПК-1.4)

3. Какие способы задания движения применяются в кинематике точки

А) Только векторный способ

Б) Только координатный способ

В) Векторный и графический способы

Г) Векторный, координатный и естественный способы задания движения

Правильный ответ: Г

Компетенции (индикаторы): ОПК-1 (ОПК-1.4)

4. Точка плоской фигуры, скорость которой в данный момент времени равна нулю, называется

А) центром вращений

Б) центром масс системы

В) мгновенным центром

Г) мгновенным центром скоростей

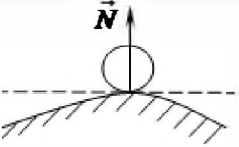
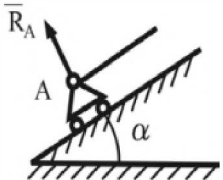
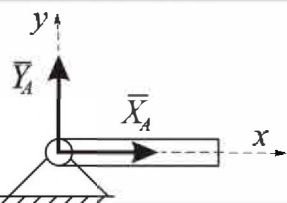
Правильный ответ: Г  
Компетенции (индикаторы): ОПК-1 (ОПК-1.4)

### Задания закрытого типа на установление соответствия

Установите правильное соответствие.

Каждому элементу левого столбца соответствует только один элемент правого столбца.

#### 1. Установите соответствие между изображением и типом связи

1)		А) Шарнирно-подвижная (скользящая) опора
2)		Б) Шарнирно-неподвижная опора
3)		В) Гладкая поверхность

Правильный ответ:

1	2	3
В	А	Б

Компетенции (индикаторы): ОПК-1 (ОПК-1.4)

#### 2. Установите соответствие между видом движения твердого тела и формулой для определения скорости точки этого тела

1)	Поступательное движение	А)	$v_B = v_A + v_{BA}$
2)	Вращательное движение	Б)	$v_A = v = \frac{ds}{dt}$
3)	Плоскопараллельное движение	В)	$v_A = \omega \cdot R$

Правильный ответ:

1	2	3
Б	В	А

Компетенции (индикаторы): ОПК-1 (ОПК-1.4)

#### 3. Установите соответствие между определением и понятием

1)	Движение тела, при котором любая прямая, соединяющая две точки тела, движется параллельно самой себе	А)	вращательное движение вокруг неподвижной оси
----	--	----	--

2)	Движение тела, при котором какие-либо две его точки остаются неподвижными во всё время движения	Б)	плоскопараллельное движение
3)	Движение твердого тела, при котором все его точки движутся параллельно некоторой неподвижной плоскости	В)	поступательное движение

Правильный ответ:

1	2	3
В	А	Б

Компетенции (индикаторы): ОПК-1 (ОПК-1.4)

4. Установите соответствие между работами сил и формулами, по которым они определяются

1)	работа силы тяжести	А)	$A = mg(z_1 - z_2)$
2)	работа силы трения	Б)	$A = \frac{c}{2}(\lambda_1^2 - \lambda_0^2)$
3)	работа силы упругости	В)	$A = -F_{mp}s$

Правильный ответ:

1	2	3
А	В	Б

Компетенции (индикаторы): ОПК-1 (ОПК-1.4)

**Задания закрытого типа на установление правильной последовательности**

*Установите правильную последовательность.*

1. Запишите правильную последовательность изучения разделов в теоретической механике

- А) Динамика
- Б) Статика
- В) Кинематика

Правильный ответ: Б, В, А

Компетенции (индикаторы): ОПК-1 (ОПК-1.4)

2. Решение задач статики на равновесие произвольной плоской системы сил выполняется в следующей последовательности

- А) Выбор тела (или тел), равновесие которого должно быть рассмотрено
- Б) Составление условий равновесия
- В) Изображение действующих сил
- Г) Определение искомых величин, проверка правильности решения и исследование полученных результатов

Правильный ответ: А, В, Б, Г

Компетенции (индикаторы): ОПК-1 (ОПК-1.4)

3. Момент силы  $F$  относительно оси  $Oz$  определяется в следующей последовательности

А) Построить плоскость  $\pi$  перпендикулярную данной оси  $Oz$

Б) Определить знак момента

В) Построить проекцию силы  $F_\pi$  на плоскость  $\pi$

Г) Вычислить момент проекции  $F_\pi$  относительно точки  $O$  – точки пересечения оси  $Oz$  с плоскостью  $\pi$ .

Правильный ответ: А, В, Г, Б

Компетенции (индикаторы): ОПК-1 (ОПК-1.4)

4. При решении задач на сложное движение точки следует придерживаться следующих этапов

А) Выделить точку, совершающую сложное движение

Б) Выбрать неподвижную и подвижную системы координат, и выявить переносное, относительное, абсолютное движения точки

В) Записать теорему Кориолиса о сложении ускорений и определить составляющие абсолютного ускорения.

Г) Вычислить переносную, относительную и абсолютные скорости точки

Правильный ответ: А, Б, Г, В

Компетенции (индикаторы): ОПК-1 (ОПК-1.4)

### Задания открытого типа

#### Задания открытого типа на дополнение

*Напишите пропущенное слово (словосочетание).*

1. Величина, являющаяся основной мерой механического взаимодействия материальных тел называется \_\_\_\_\_

Правильный ответ: силой / сила

Компетенции (индикаторы): ОПК-1 (ОПК-1.4)

2. Раздел механики, в котором изучаются геометрические свойства движения тел без учета их инертности (массы) и действующих на них сил называется \_\_\_\_\_

Правильный ответ: кинематика / кинематикой

Компетенции (индикаторы): ОПК-1 (ОПК-1.4)

3. «Уравнения:  $x = f_1(t)$ ,  $y = f_2(t)$ ,  $z = f_3(t)$  используются при \_\_\_\_\_ способе задания движения точки»

Правильный ответ: координатном / координатный

Компетенции (индикаторы): ОПК-1 (ОПК-1.4)

4. Сила, приложенная к материальной точке, равна произведению массы на ускорение, вызываемое этой силой. Данное утверждение представляет собой \_\_\_\_\_ закон динамики

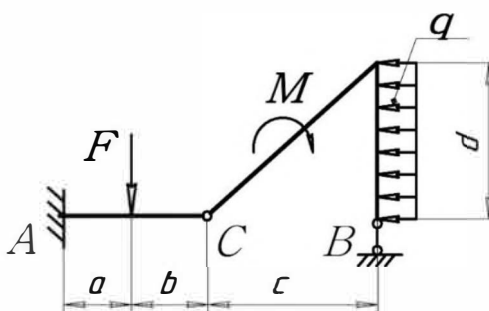
Правильный ответ: 2-й / второй / основной

Компетенции (индикаторы): ОПК-1 (ОПК-1.4)

### Задания открытого типа с кратким свободным ответом

*Дайте ответ на вопрос*

1. Тип связи в точке А:



Правильный ответ: заделка / жесткая заделка / защемление

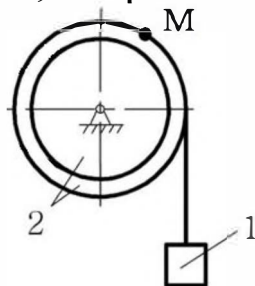
Компетенции (индикаторы): ОПК-1 (ОПК-1.4)

2. Какой знак имеет момент силы относительно точки, если сила стремится повернуть тело вокруг точки по часовой стрелке

Правильный ответ: минус / - / отрицательный

Компетенции (индикаторы): ОПК-1 (ОПК-1.4)

3. Как называется движение, совершаемое телом 2



Правильный ответ: вращательное / вращательным

Компетенции (индикаторы): ОПК-1 (ОПК-1.4)

4. Точка плоской фигуры, скорость которой в данный момент времени равна нулю, называется

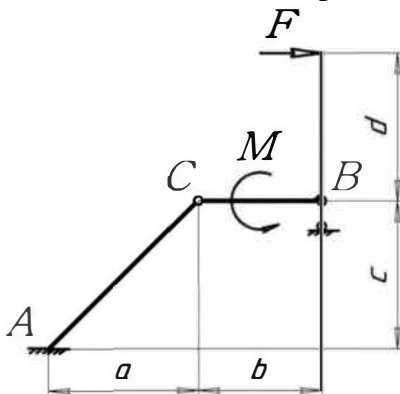
Правильный ответ: мгновенным центром скоростей / мгновенный центр скоростей / МЦС / мцс

Компетенции (индикаторы): ОПК-1 (ОПК-1.4)

## Задания открытого типа с развернутым ответом

Дайте ответ на вопрос


1. Момент силы  $F$  относительно точки  $A$  равен:



Правильный ответ:  $M_A(\vec{F}) = -F(c + d)$   
Компетенции (индикаторы): ОПК-1 (ОПК-1.4)

2. Автобус везёт пассажиров по прямой дороге со скоростью  $v_{\text{пер}} = 10$  м/с.

Пассажир равномерно идёт по салону автобуса со скоростью  $v_{\text{отн}} = 1$  м/с относительно автобуса, двигаясь от задней двери к кабине водителя. Чему равен модуль  $v_{\text{абс}}$  скорости пассажира относительно дороги?



Правильный ответ: Так как пассажир идет в том же направлении, что и автобус, то векторы их скоростей складываются, поэтому абсолютная скорость равна  $v_{\text{абс}} = v_{\text{пер}} + v_{\text{отн}} = 10 + 1 = 11$  м/с

Компетенции (индикаторы): ОПК-1 (ОПК-1.4)

3. Закон движения точки  $M$  задан уравнением  $x = t^3 + 1$  м. Найти скорость  $v$  точки  $M$  в момент времени  $t = 2$  с

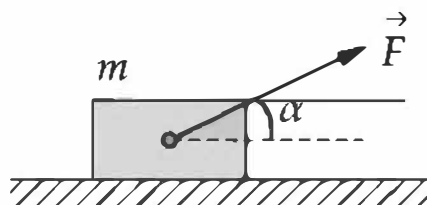
Правильный ответ:

$$\text{Скорость точки } M: v = \frac{dx}{dt} = 3t^2$$

$$\text{В заданный момент времени: } v = 3 \cdot 2^2 = 12 \text{ м/с}^2$$

Компетенции (индикаторы): ОПК-1 (ОПК-1.4)

4. Брусек двигают с помощью силы  $F$  по горизонтальной поверхности, при этом сила  $F = 20$  Н и направлена под углом  $\alpha = 60^\circ$  к горизонту. Определите работу силы  $F$  при перемещении бруска на расстояние  $s = 5$  м.



Правильный ответ  $A = F \cdot s \cdot \cos \alpha = 20 \cdot 5 \cdot \frac{1}{2} = 50 \text{ Н} \cdot \text{м}$

Компетенции (индикаторы): ОПК-1 (ОПК-1.4)



## Экспертное заключение

Представленный фонд оценочных средств (далее – ФОС) по дисциплине «Прикладная механика» соответствует требованиям ФГОС ВО.


Предлагаемые формы и средства текущего и промежуточного контроля адекватны целям и задачам реализации основной профессиональной образовательной программы по направлению подготовки 22.03.02 Metallургия.

Оценочные средства для текущего контроля успеваемости, промежуточной аттестации по итогам освоения дисциплины представлены в полном объеме.

Виды оценочных средств, включенные в представленный фонд, отвечают основным принципам формирования ФОС.

Разработанный и представленный для экспертизы фонд оценочных средств рекомендуется к использованию в процессе подготовки обучающихся по указанному направлению.

Председатель учебно-методической комиссии  
института технологий и инженерной механики

 Ясуник С.Н.

### Лист изменений и дополнений

№ п/п	Виды дополнений и изменений	Дата и номер протокола заседания кафедры (кафедр), на котором были рассмотрены и одобрены изменения и дополнения	Подпись (с расшифровкой) заведующего кафедрой (заведующих кафедрами)